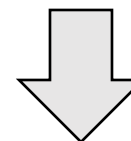


Dessine une image qui représente la valeur du nombre:

Écris le nombre en forme développée:




Compte à **reculons** par _____ à partir du nombre


Écris 3 équations qui sont équivalentes au nombre:

Écris un exemple concret qui démontre la valeur de ce nombre:

Compte à **l'avance** par _____ à partir du nombre



Indique où le nombre se situe sur la droite numérique



Réfléchis

Raisonnement et analyse : Image et forme développée

1 2 3

Comprendre et résoudre: 3 équations

1 2 3

Communiquer et représenter: Exemple concret

1 2 3

Faire des liens et réfléchir: Compter et droite numérique

1 2 3